

خرید کتاب های کنکور

با تخفیف ویژه

و

ارسال رایگان

Medabook.com

+



یک جله تماس تلفنی رایگان

با مشاوران رتبه برتر

برای انتخاب بهترین منابع

دبیرستان و کنکور

۰۲۱ ۲۸۴۲۵۲۱۰





خاطرات انقلاب



۱ نام هر تصویر را با نشانه‌ی «ط» کامل کن و بخوان.




درس ۲۰




قار.....




وی.....



تاب.....



اوس.....



خا.....


اسمش «ط» صداش «ت»

ط.....



۲ کلمه‌های زیر را با یکی از نشانه‌های «ط، ت» کامل کن.

و.....ن	صُجَب.....	و.....س	فا.....مه
.....لایی	حرک.....	خا.....ره	مام.....

نشانه‌ی «ط» با دو حرکت دست به این صورت  نوشته می‌شود و اگر به شکل ط یا ط نوشته شود، غلط محسوب می‌شود.



۳ کلمه‌های داده شده را مرتب کن و جمله بساز.

ما - است - وطن - ایران - عزیز

ماهری - است - خیاط - فاطمه

تعریف - معلم - از - می‌کرد - خاطرات انقلاب

۴ برای این تصویر سه جمله بنویس.





۵ مانند نمونه، کلمه‌ها را به طور مناسب به هم وصل کن و با هر ترکیب، جمله بساز.

خاطرات	قطره‌ی	وسط	وطن
آب	انقلاب	ما	حیات

وسط حیات :

.....

.....

.....

.....

۶ متن زیر را با کلمه‌های داده‌شده کامل کن و بخوان.

اسم مادرم است.

او ماهری است و با دقت لباس می‌دوزد.

ما خانگی بزرگی داریم. در حیات خانگی ما، حوض زیبایی است.

دیروز، من و مادرم از پشت پنجره، را تماشا می‌کردیم.

پرنده‌ی زیبایی کنار حوض نشست.

چند آب خورد و رفت. مادرم می‌گوید طوطی و پرهای زیبا و رنگارنگی دارند.

- طاووس
- خیاط
- وسط
- فاطمه
- قطره
- حیات

درس ۲۰


درس بیست و یکم



لاک پشت و مرغابی‌ها



۱ نام هر تصویر را با نشانه‌ی «غ غ غ غ» کامل کن.



تیه.....



ج...د



با.....







قوربا...ه

«غ» اوّل «غ» وسط «غ» آخر چسبان «غ» آخر تنها
اسمش «غین» صدش «ق»

غ غ
غ غ



۲ نام هر تصویر را بنویس.



۳ درس «لاک پشت و مرغابی‌ها» را بخوان و کلمه‌هایی را که نشانه‌ی «غ غ غ غ» یا «ق ق» دارند، در جدول

زیر بنویس، سپس به پرسش‌ها پاسخ بده.

ق ق	غ غ غ غ
.....
.....
.....

- مرغابی‌ها کجا زندگی می‌کردند؟
- چرا مرغابی‌ها مجبور شدند از آن‌جا بروند؟
- چرا مرغابی‌ها به لاک‌پشت گفته بودند حرف نزنند؟

۴ با هر کلمه جمله بساز.

مشغول:

باغبان:

غصه:

قصه:

۵ کلمه‌ها را بخوان و با توجه به نشانه‌ی نوشته‌شده، دسته‌بندی کن.

مزرعه - مشغول - عید - پیغمبر - باغبان - غروب -
 موقع - ساعت - غذا - عصر - روغن - شمع - جیغ -
 عزیز - غاز - داغ - تعدادی - عینک - شعار

غ خ غ خ غ

ع ع ع ع ع



..... ، ،
..... ، ،
..... ، ،
..... ، ،
..... ، ،




۶ چه نشانه‌هایی خوانده‌ای که چهار شکل دارد؟ آن‌ها را بنویس.

Four empty boxes for writing answers, each with a dashed line for a starting point. The boxes are colored: top-left (green), top-right (orange), middle-left (pink), middle-right (blue), and bottom (teal).

۷ متن زیر را با کلمه‌های داده شده کامل کن و بخوان.

در - از - را - تا - او

پدر قاسم باغبان است. باغ زیبایی دارد.
 وسط باغ، حوض بسیار بزرگی قرار دارد.
 چند مرغابی داخل حوض شنا می‌کنند.
 گل‌هایی پر غنچه‌های زیبا در کنار حوض روئیده‌اند.
 چند روز پیش، قاسم جغدی در باغ دید.
 جغد زخمی شده بود. قاسم بسیار غمگین شد.
 او جغد را پیش پدرش برد زخم جغد را درمان کند.



علوم تجربی



درس اول

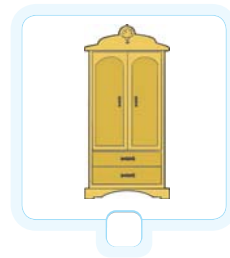

زنگ علوم



۱ به تصویر نگاه کن و پاسخ بده.

- چه چیزهایی در این تصویر می بینی؟
- آیا تا به حال سایه ها را با دقت دیده ای؟ دور سایه ی پسر بچه و سایه ی گربه را با مداد پررنگ کن.
- اگر یک ساعت دیگر به این حیاط بروی چه خواهی دید؟
- آیا شکل و اندازه ی سایه ها تغییر خواهد کرد؟
- در مورد سایه ها چه سؤال های دیگری به فکر می رسد؟ از بزرگترها بپرس.

۲ کدام یک از جسم های زیر اگر در مسیر نور قرار بگیرند، سایه ندارد؟ علامت ✓ بزن.



۳ با کدام یک از وسایل زیر می توانیم سایه ایجاد کنیم؟ علامت ✓ بزن.





۴ آیا موقع شب و در جاهای تاریک سایه تشکیل می شود؟

۵ هنگام ظهر، سایه‌ها چطور هستند؟ علامت ✓ بزن.




۶ با توجه به شکل سایه‌ی درخت، تصویر خورشید را در جای مناسب بکش و به سؤال‌ها پاسخ بده.



- آیا طول سایه‌ها در ساعت‌های مختلف یک روز تغییر می‌کند؟
- چه موقع از روز سایه‌ها بلندتر است؟
- چه موقع از روز سایه‌ها کوتاه‌تر است؟
- چرا در اتاق تاریک سایه نداریم؟

۷ به شکل‌های زیر با دقت نگاه کن و به سؤال‌ها پاسخ بده.

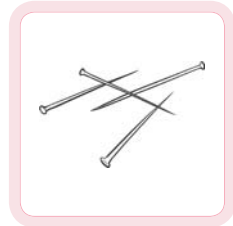

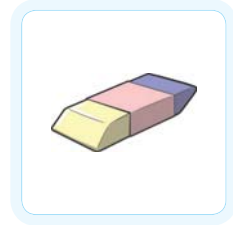
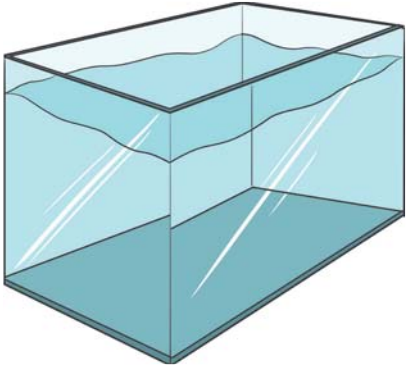


- این شکل‌ها چه تفاوتی با هم دارند؟
- شکل‌ها را در دو گروه قرار بده و دور دسته‌بندی خودت خط بکش.



۸ آزمایش کن و پاسخ بده. (زیر آب یا روی آب)

کدام یک از وسایل زیر روی آب می ماند؟ دور آن ها خط بکش.



۹ به تصویر زیر با دقت نگاه کن و به سؤال ها پاسخ بده. تو هم درباره ی آن دو سؤال دیگر بپرس.

مورچه ها چندتا پا دارند؟

لانه ی مورچه ها کجاست؟

؟

؟

چطور می توانی پاسخ سؤال هایت را پیدا کنی؟

