

خرید کتاب های کنکور

با تخفیف ویژه

و

ارسال رایگان

Medabook.com

+



یک جلسه تماس تلفنی رایگان

با مشاوران رتبه برتر

برای انتخاب بهترین منابع



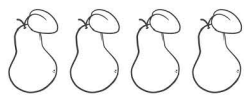
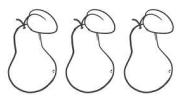




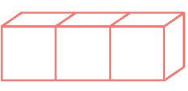
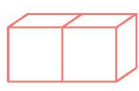
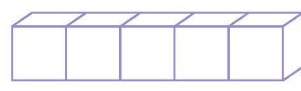
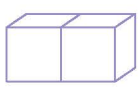
دبیرستان و کنکور

۰۲۱ ۲۸۴۲۵۲۱۰

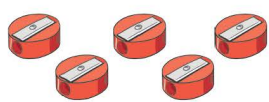

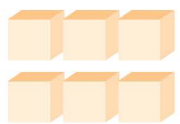
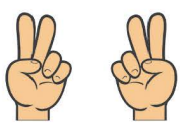




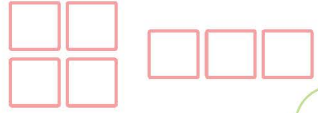





۱ در هر ردیف، دسته‌ها را بشمار و دسته‌ی کم‌تر را رنگ کن.



۲ عدد هر دسته را بنویس و دور دسته‌ی کم‌تر خط بکش.



مانند نمونه، عدد هر دسته را بنویس و علامت کم تر (<) بگذار و آن‌ها را از هر دو طرف بخوان. (مثال: سه کم تر


از چهار-چهار بیش تر از سه)




۳




۴



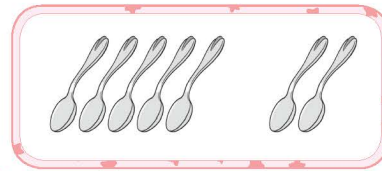
.....



.....



.....



.....




.....




.....



.....



.....



.....


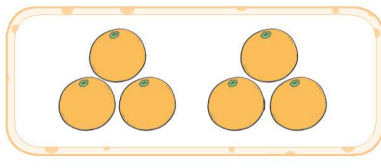







.....





۴ عدد هر دسته را بنویس و علامت = یا < بگذار.



۵ بین دو عدد زیر علامت = یا < بگذار و بخوان.

۳ ○ ۳

۱ ○ ۲

۶ ○ ۶

۵ ○ ۷

۸ ○ ۸


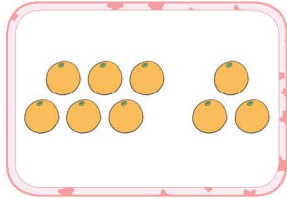

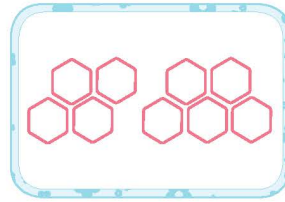
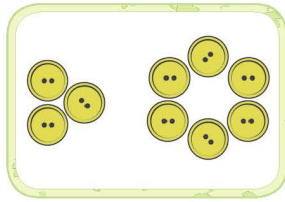

۷ ○ ۸

۴ ○ ۴

۶ ○ ۸



۶ عدد هر دسته را بشمار و بگو.



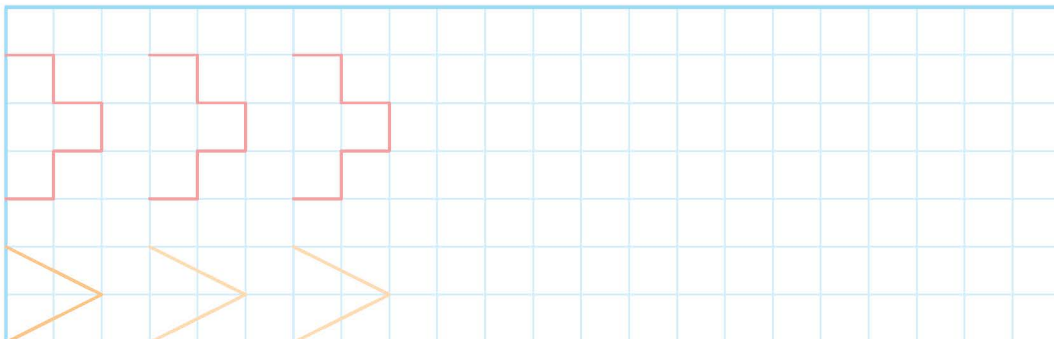
۷ با توجه به جهت فلش، عدد ۹ را بنویس.



۸ از عدد صفر تا ۹ را به ترتیب بنویس.

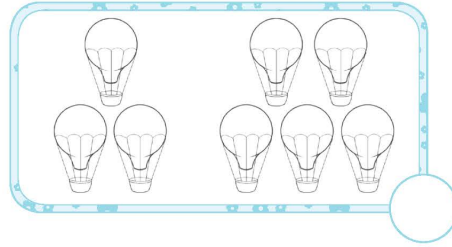

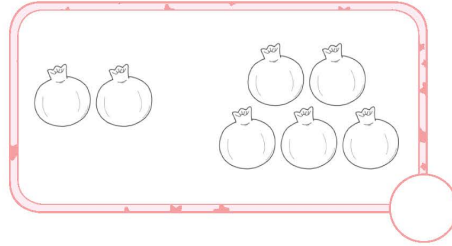
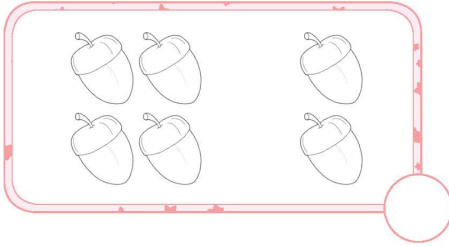






۹ مانند نمونه ادامه بده.





۱۰ عدد هر دسته را بنویس و دسته‌ی بیش‌تر را رنگ کن.



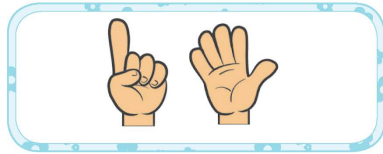

۱۱ جدول شگفت‌انگیز اعداد را کامل کن.

	۱	۲	۴	۳	۷	۵	۹	۸
۴	۵	۹	۸	۶	۲	۳		۱
۳	۷	۸		۱	۵	۶	۴	۲
۵	۲		۶	۸	۴	۱	۳	۹
۹	۶	۱	۷	۲	۳	۸	۵	
۸	۴	۳	۵		۱	۲	۶	۷
۲		۶	۱	۷	۹	۴	۸	۵
۱	۹	۴	۳	۵		۷	۲	۶
۷	۸	۵	۲	۴	۶		۱	۳

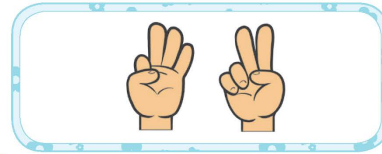


مانند نمونه، عدد هر دسته را بنویس و علامت بیش تر (>) بگذار و آن‌ها را از دو طرف بخوان. (مثال: ۶ بیش تر


از ۵-۵ کم تر از ۶)




۶



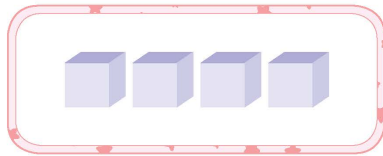
۵




.....



.....




.....



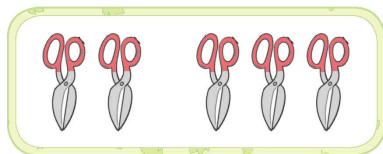
.....



.....



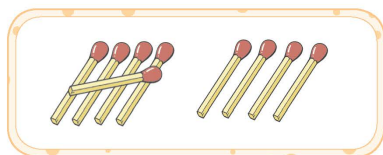
.....




.....



.....



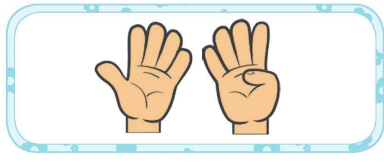
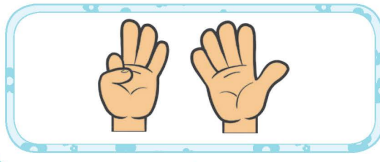
.....





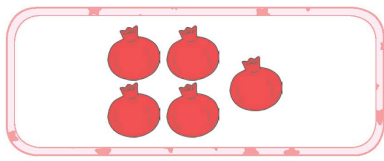

.....

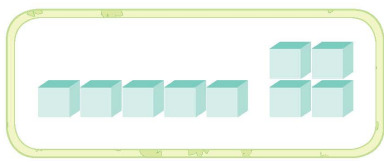
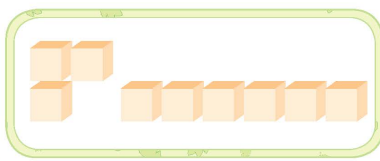




مانند نمونه، عدد هر دسته را بنویس و علامت <، = یا > بگذار و هر عبارت را از دو طرف بخوان.

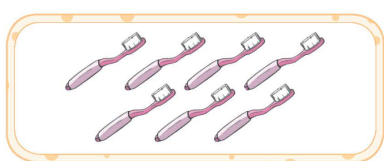

	
۹	۸
>	

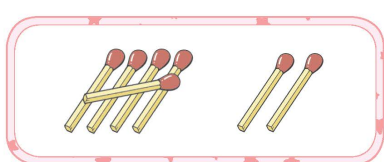
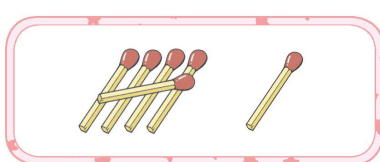
	
.....
○	

	
.....
○	

	
.....
○	

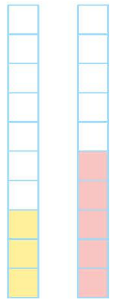
	
.....
○	

	
.....
○	

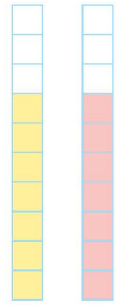
	
.....
○	



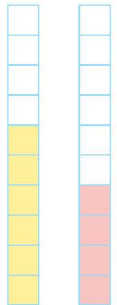
۱۴ مانند نمونه انجام بده.



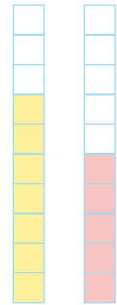
$3 < 5$




$7 = 7$




$6 > 4$



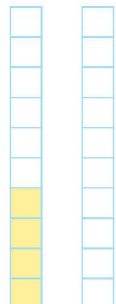
$7 > 5$




$5 < 8$




$0 < 0$




$4 > 0$



$5 = 5$




$0 > 0$



$0 < 0$

۱۵ در جای خالی عدد مناسب بنویس.



$0 = 6$

$7 < 0$

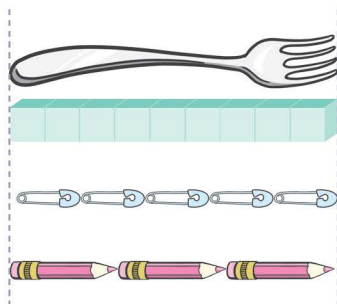
$5 > 0$

$2 > 0$

$3 = 0$

$4 < 0$

۱۶ طول چنگال چندتا شکل کوچک است؟ کنار آن بنویس.




تا

تا

تا



۱۷ در جاهای خالی عددهایی بنویس که از عدد ۶ کم تر باشند.



۱۸ جدول شگفت انگیز اعداد را کامل کن.

۹	۶	۵	۲	۱	۷	۴	۸	
	۳	۴	۶	۸	۵	۷	۱	۹
۱		۷	۹	۳	۴	۲	۶	۵
۴	۱		۷	۹	۸	۶	۵	۲
۸	۵	۶		۲	۱	۹	۳	۷
۷	۹	۲	۵		۳	۸	۴	۱
۳	۷	۹	۱	۴		۵	۲	۸
۵	۴	۸	۳	۷	۲		۹	۶
۶	۲	۱		۵	۹	۳	۷	۴

۱۹ مسئله‌ی زیر را حل کن.



سینا و سمانه هر کدام ۲ شکلات دارند. برادر سینا ۳ تا از او و

برادر سمانه ۴ تا از او بیش‌تر دارد.

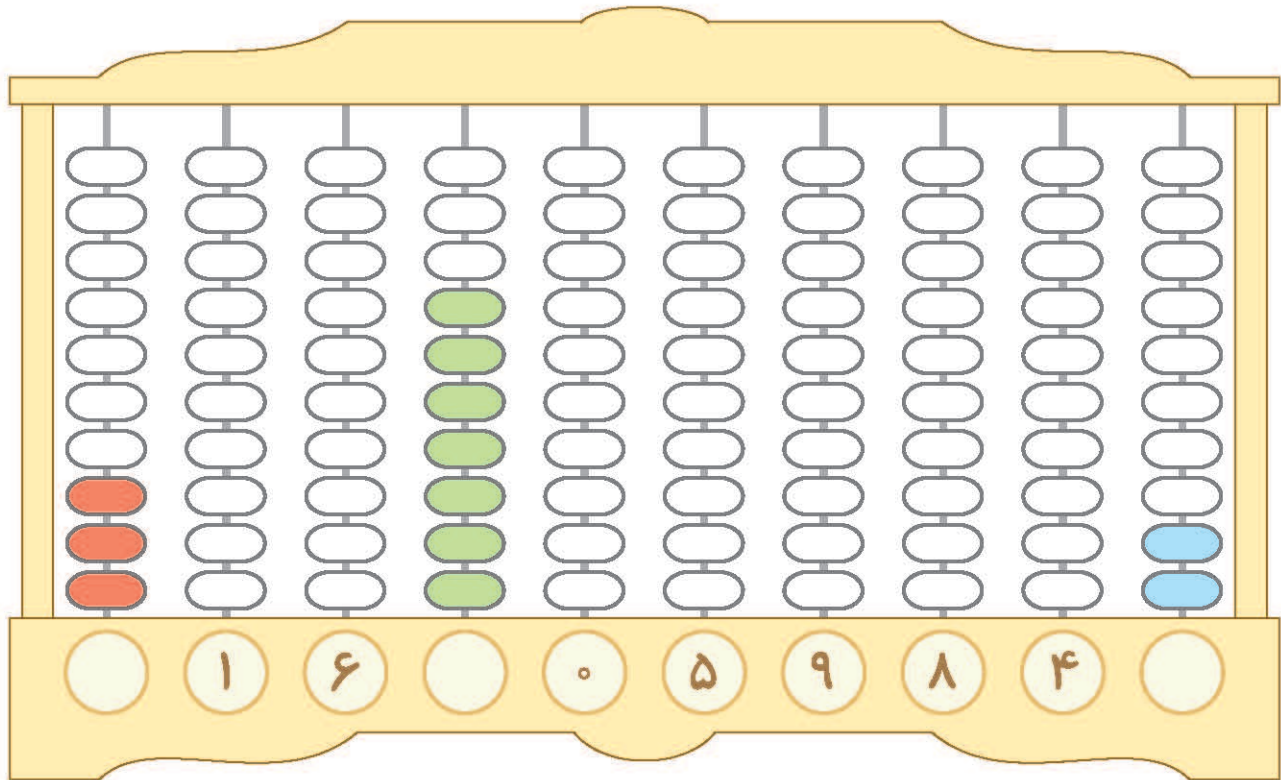
برادر سینا شکلات بیش‌تری دارد یا برادر سمانه؟

۲۰ جاهای خالی را با اعداد مناسب پر کن.





۲۱ به تعداد عدد نوشته شده از مهره‌ها رنگ کن . عدد مهره‌های رنگ شده را بنویس .




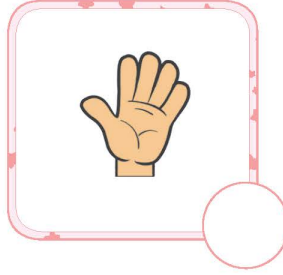
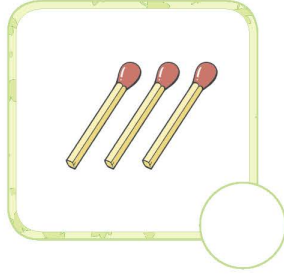

۲۲ با توجه به شکل بالا، به سؤال‌های زیر پاسخ بده .

- ◀ کدام عدد از همه بیشتر است؟
- ◀ از بین عددهای بالا، چند عدد وجود دارد که از ۹ کمتر است؟
- ◀ از بین عددهای بالا، چند عدد وجود دارد که از ۵ بیشتر است؟


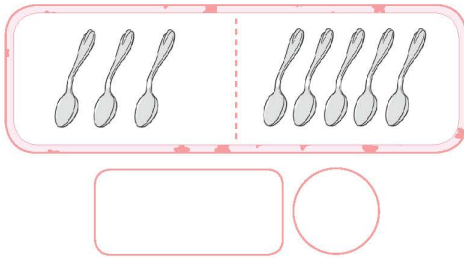
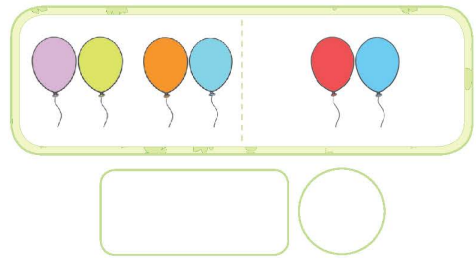
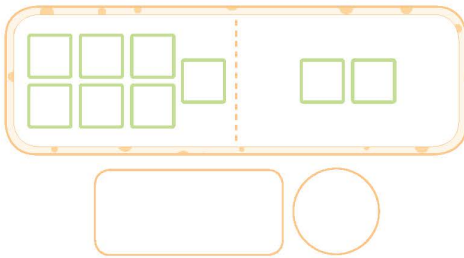


خودسنجی ۳

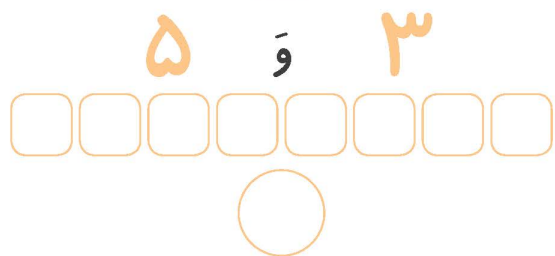
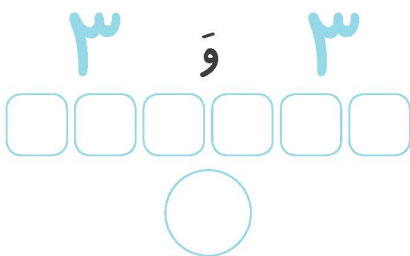
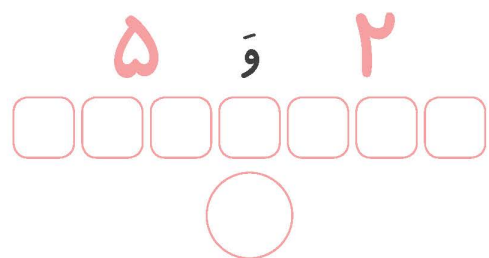

۱ اگر از هر دسته ۲ تا برداریم، چندتا می ماند؟ بنویس.



۲ شکل های هر دو دسته روی هم چندتا می شود؟ با چوب خط نشان بده و عدد آن را بنویس.



۳ با توجه به عددها، شکل را با دو رنگ، رنگ آمیزی کن. شکل ها با هم چندتا می شود؟ بنویس.

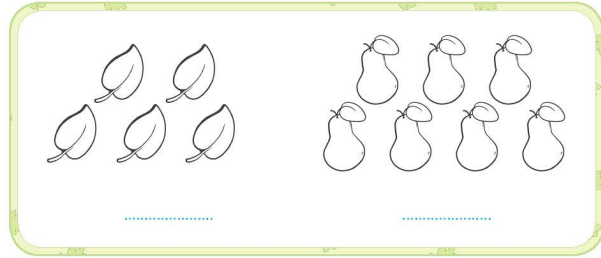





خودسنجی ۳

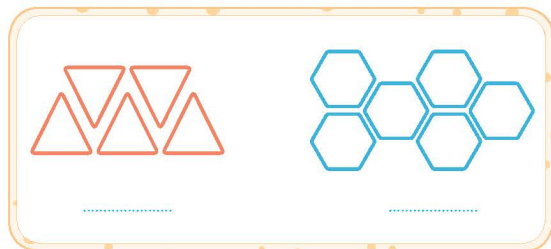
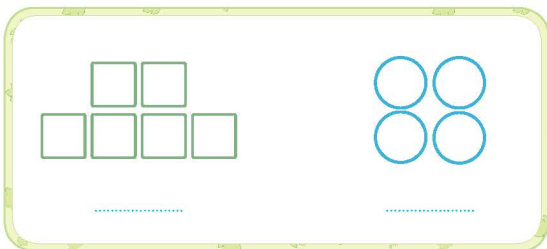
شاهکار ریاضی اول دبستان

۴ عدد هر دسته را بنویس و دسته‌ای را که شکل بیش‌تری دارد، رنگ بزن.



۵ در سمت راست آن قدر شکل بکش که عدد هر دو دسته برابر شود.

۶ عدد هر دسته را بنویس و دسته‌ای را که شکل کم‌تری دارد، رنگ بزن.





خودسنجی ۳

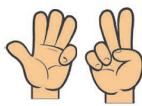
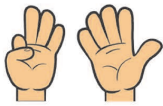
۷ عدد هر دسته را بنویس و علامت مناسب را انتخاب کن.



..... < = >



..... < = >



..... < = >



..... < = >

۸ از صفر تا ۹ را به ترتیب بنویس.

۹ در جای خالی علامت < = > قرار بده.

۹ ○ ۹

۸ ○ ۵

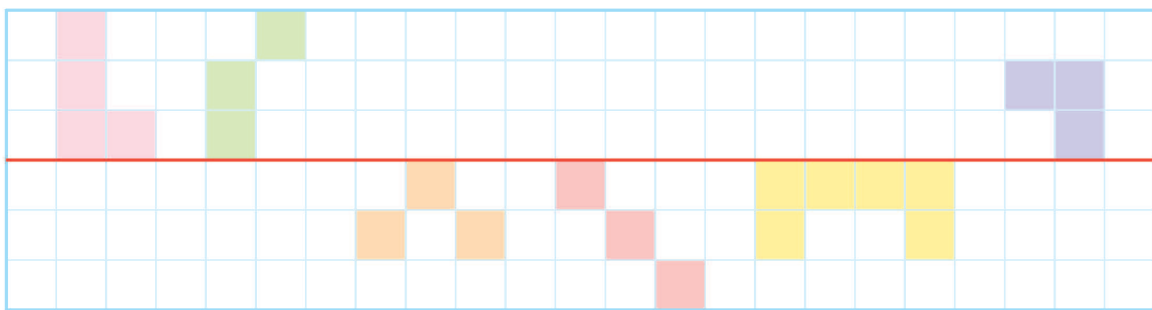
۸ ○ ۷

۶ ○ ۹

۷ ○ ۹

○ ○

۱۰ نیمه‌ی دیگر شکل‌های زیر را رنگ کن.







۲
آزمون
عملکردی

شاهکار ریاضی اول دبستان

هدف کلی: کار با خط کش

وسایل مورد نیاز: مداد رنگی - مداد - خط کش

شکل کوچک بالا را با خط کش در قسمت پایین بکش و رنگ کن.



درجات			نشانه‌ها و انتظارات
نیاز به تلاش	تا حدودی	کاملاً	
<input type="checkbox"/>	<input type="checkbox"/>	<input type="checkbox"/>	شکل را به درستی رسم کرده است. ۱
<input type="checkbox"/>	<input type="checkbox"/>	<input type="checkbox"/>	از خط کش استفاده کرده است. ۲
<input type="checkbox"/>	<input type="checkbox"/>	<input type="checkbox"/>	تمیز و زیبا رنگ کرده است. ۳

ارائهی بازخورد:

