

خرید کتاب های کنکور

با تخفیف ویژه

و

ارسال رایگان

Medabook.com

+



یک جله تماس تلفنی رایگان

با مشاوران رتبه برتر

برای انتخاب بهترین منابع

دبیرستان و کنکور

۰۲۱ ۲۸۴۲۵۲۱۰





۵	یاد آوری سال دوم
۱۴	فصل اول الگوها
۲۵	فصل دوم عددهای چهار رقمی
۵۰	فصل سوم عددهای کسری
۶۹	ارزشیابی دوره‌های (۱)
۷۵	فصل چهارم ضرب و تقسیم
۹۵	فصل پنجم محیط و مساحت
۱۱۲	فصل ششم جمع و تفریق
۱۲۹	ارزشیابی دوره‌های (۲)
۱۳۴	فصل هفتم آمار و احتمال
۱۵۰	فصل هشتم ضرب عددها
۱۶۵	ارزشیابی دوره‌های (۳)



الگوهای زیر را ادامه بده.

۱۵ - ۲۵ - _____

۳۰ - ۳۵ - _____

۴۲ - ۴۴ - _____

۶۳ - ۶۶ - _____

۱۰۰ - ۲۰۰ - _____

چهل و هشت - چهل و نه -

ده - بیست - سی -

یازده - بیست و یک -

پنجاه - پنجاه و پنج -

حاصل عبارتهای زیر را به دست بیاور.

$$۵ + ۱۰ + ۵ + ۲۰ = \underline{\hspace{2cm}}$$

$$۵ + ۲۰ + ۵ + ۴۰ = \underline{\hspace{2cm}}$$

$$۱۰ + ۵ + ۴ + ۵ + ۶ = \underline{\hspace{2cm}}$$

$$۲۰ + ۳ + ۵ + ۷ = \underline{\hspace{2cm}}$$



$$30 + 20 + 10 - 5 = \underline{\hspace{2cm}}$$

$$60 - 50 = \underline{\hspace{2cm}}$$

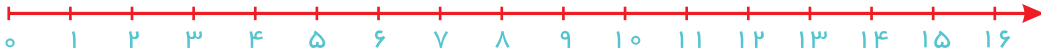
$$10 + 50 + 30 = \underline{\hspace{2cm}}$$

$$50 + 10 - 10 + 20 = \underline{\hspace{2cm}}$$

حاصل جمع و تفریق‌های زیر را روی محور نشان بده.




$$6 + 8 - 4 = \underline{\hspace{2cm}}$$



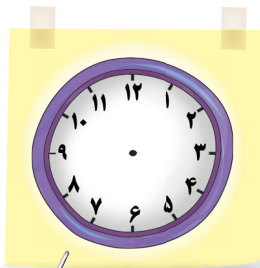
$$8 + 8 - 4 = \underline{\hspace{2cm}}$$




روی هر ساعت زمان‌های نوشته شده را نشان بده.




یک ربع بعد از ۱



یک ربع مانده به ۴



ساعت ۱



نیم ساعت مانده به ۱۰

به کمک محور مسئله را حل کن.



کتاب داستان مریم ۱۰۰ صفحه دارد. او دیروز ۳۰ صفحه و امروز ۴۰ صفحه از کتابش را خوانده است.

مریم چند صفحه از کتابش را نخوانده است؟





یادآوری سال دوم



به حروف یا به رقم بنویس.



۶۰۸: _____

_____ هفتصد و هشتاد و نه:

۷۶۱: _____

_____ چهارصد و سی و یک:

۴۰۵: _____

_____ شصت و دو:

۹۲۰: _____

_____ صد و هشت:

اعداد زیر را با حذف رقم یکان به صورت تقریبی بنویس.



عددهای زیر را با حذف رقم دهگان به صورت تقریبی بنویس.



جمع یا تفریق کن.



$$\begin{array}{r} 47 \\ + 21 \\ \hline \end{array}$$

$$\begin{array}{r} 39 \\ + 15 \\ \hline \end{array}$$

$$\begin{array}{r} 29 \\ + 46 \\ \hline \end{array}$$

$$\begin{array}{r} 62 \\ - 25 \\ \hline \end{array}$$

$$\begin{array}{r} 86 \\ - 59 \\ \hline \end{array}$$

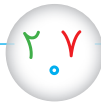
$$\begin{array}{r} 80 \\ - 14 \\ \hline \end{array}$$



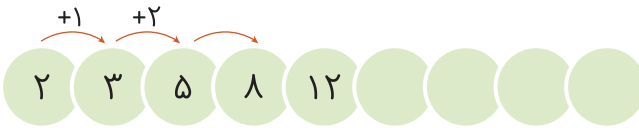
۱۰ علی در زنگ ورزش ۴۵ امتیاز و در زنگ ریاضی ۳۴ امتیاز گرفت.

او با ۲۷ امتیازش یک جایزه گرفت. او حالا چند امتیاز دارد؟

۱۱ با رقم‌های ۷ و ۰ و ۲ هر چند تا عدد سه رقمی که می‌توانی بنویس.



۱۲ الگوهای زیر را ادامه بده.



۱۳ در هر ردیف، عددها را ادامه بده.

● از عدد ۲۰۵ تا ۲۲۰ یکی یکی ادامه بده.

● از عدد ۳۴۰ تا ۴۴۰ ده تا ده تا ادامه بده.

● از عدد ۱۲۰ تا ۹۲۰ صد تا صد تا ادامه بده.



یادآوری سال دوم



مانند نمونه باز شدهی هر عدد را بنویس.

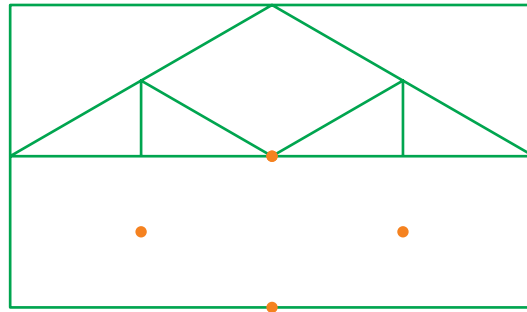
۱۴

$432 = 400 + 30 + 2$

$693 = \underline{\hspace{2cm}}$


با استفاده از خطکش نیمی دیگر شکل را کامل کن.

۱۵



ضلع‌های هر شکل را با خطکش اندازه بگیر و بنویس. وسط هر ضلع را پیدا کن.

۱۶



مقایسه کن و علامت مناسب بگذار.

۱۷

۹۷ ۹۴

۳۰۴ ۲۰۷

۱۲۰ ۸۲

۲۹۸ ۳۰۱

۷۰۰ ۴۰۰

۴۲۷ ۷۲۰

$300 + 20$

$200 + 50$

$100 + 80 + 2$

$100 + 90 + 2$

$400 + 200$

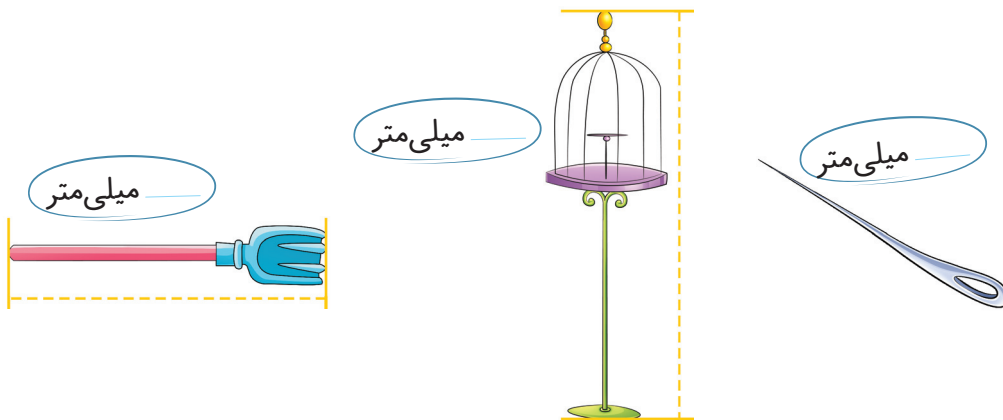
$400 - 200$



جدول سودوکو را کامل کن. ۱۸

۶	۱	۲	۴	۳	۷	۵	۹	
	۵	۹	۸	۶	۲		۷	۱
۳	۷		۹		۵	۶	۴	۲
	۲	۷		۸	۴	۱	۳	۹
۹	۶	۱	۷	۲	۳	۸	۵	
۸		۳	۵	۹		۲	۶	۷
۲	۳	۶	۱	۷	۹	۴	۸	۵
۱	۹			۵		۷		۶
۷	۸	۵	۲	۴	۶		۱	

طول هر شکل را با خطکش اندازه بگیر و بنویس چند میلی متر است. ۱۹



جاهای خالی را پر کن. ۲۰

۱۲ میلی متر می شود _____ سانتی متر و _____ میلی متر.

۱۹ میلی متر می شود _____ سانتی متر و _____ میلی متر.

۱۰ میلی متر می شود _____ سانتی متر.

۲ سانتی متر و ۳ میلی متر می شود _____ میلی متر.

۶ سانتی متر و ۸ میلی متر می شود _____ میلی متر.



یادآوری سال دوم



۲۱ در یک اردوگاه تابستانی ۳۶۰ دانش آموز بود. پس از ۳ روز ۱۳۹ نفر از آنها رفتند. چند نفر دیگر هنوز در اردوگاه باقی مانده اند؟

۲۲ امین با ۶۴۸ تومان پول برای خرید به مغازه رفت. یک کتاب داستان به قیمت



۳۲۴ تومان و یک دفتر به قیمت ۱۲۵ تومان خرید.

● او چند تومان خرید کرده است؟

● چند تومان برایش مانده است؟

۲۳ حاصل جمع و تفریق های زیر را حساب کن.

$$\begin{array}{r} 436 \\ + 332 \\ \hline \end{array}$$

$$\begin{array}{r} 620 \\ + 209 \\ \hline \end{array}$$

$$\begin{array}{r} 710 \\ - 270 \\ \hline \end{array}$$

$$\begin{array}{r} 609 \\ - 405 \\ \hline \end{array}$$

$$\begin{array}{r} 165 \\ + 243 \\ \hline \end{array}$$

$$\begin{array}{r} 219 \\ + 337 \\ \hline \end{array}$$

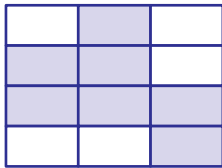
$$\begin{array}{r} 349 \\ - 280 \\ \hline \end{array}$$

$$\begin{array}{r} 620 \\ - 347 \\ \hline \end{array}$$



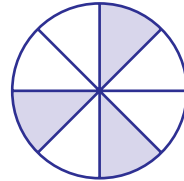
با توجه به هر شکل، جمله‌ها را کامل کن.

۲۴



_____ قسمت از _____

قسمت مساوی رنگ شده است.




_____ قسمت از _____

قسمت مساوی رنگ شده است.


با توجه به عبارت کسری نوشته شده، از هر شکل رنگ کن.

۲۵



۵ قسمت از ۸ قسمت مساوی



۴ قسمت از ۱۲ قسمت مساوی



۵ قسمت از ۱۶ قسمت مساوی



قَد سارا ۱۶۴ سانتی‌متر است. برادرش ۱۴ سانتی‌متر از او کوتاه‌تر

۲۶

است. قَد این دو نفر روی هم چند سانتی‌متر است؟

فاطمه ۵۶۳ تومان پول دارد. خواهرش ۱۳۵ تومان بیشتر از او پول


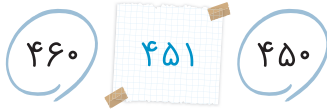


۲۷

دارد. فاطمه و خواهرش روی هم چند تومان پول دارند؟

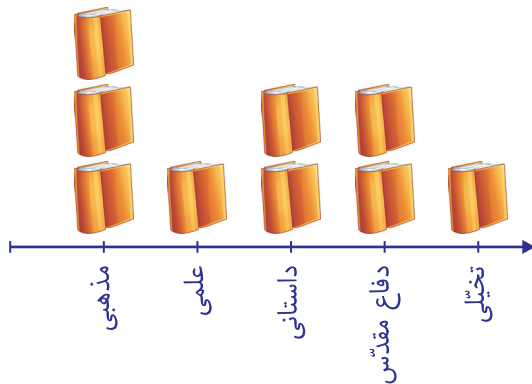




۲۸ عدد داخل مربع به کدام عدد نزدیک تر است؟ گردی آن را رنگ بزن.



۲۹ نمودار زیر نشان دهنده تعداد کتاب‌های موجود در کتابخانه‌ی دبستان ایمان است. اگر هر ۱۰۰ کتاب را با نماد نشان دهیم، با توجه به نمودار جدول زیر را کامل کن.



عنوان کتاب	کتاب‌های مذهبی	کتاب‌های علمی	کتاب‌های داستانی	کتاب‌های دفاع مقدس	کتاب‌های تخیلی
تعداد					

● مجموع کل کتاب‌های این کتابخانه چند جلد است؟

۳۰ با کمک ماشین حساب، سه عدد بعدی را پیدا کن.

